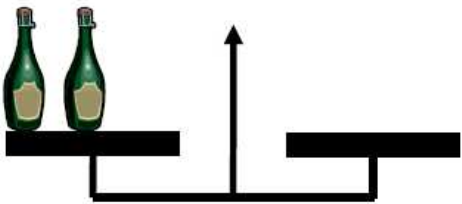


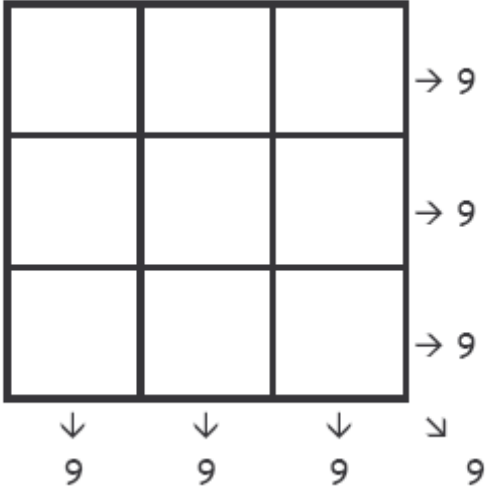


Fiche réponse – Une fiche par groupe

N°	Complétez les réponses ou exécutez la consigne	Juste							
1	Dans chaque bouquet, il y a .....tulipes et .....marguerites.	<input type="checkbox"/>							
2	Dessine ce qu'il faut sur le plateau de droite de la balance. 	<input type="checkbox"/>							
3	Le livre coûte.....euros.	<input type="checkbox"/>							
4	Dans son miroir Oursonnet voit l'image.....	<input type="checkbox"/>							
5	La grenouille va arriver sur la case :.....	<input type="checkbox"/>							
6	Ordre d'arrivée des voitures : <table border="1" data-bbox="274 990 1284 1064"> <tr> <td> </td> <td> </td> <td> </td> <td> </td> <td> </td> <td> </td> <td> </td> </tr> </table>								<input type="checkbox"/>
7	Grand-Père peut faire.....soupes différentes.	<input type="checkbox"/>							
8	Pour remplir la partie hachurée du puzzle, il faut choisir les formes .....et .....	<input type="checkbox"/>							
9	Tom occupe maintenant la .....place.	<input type="checkbox"/>							
10	Le fermier a .....poules et .....lapins.	<input type="checkbox"/>							

*Fin du concours CP*

N°	Complétez les réponses ou exécutez la consigne	Juste
11	Complète le carré. 	<input type="checkbox"/>

12	<p>Trace les traits qui permettent de décomposer cette figure en 4 triangles.</p> 	<input type="checkbox"/>
13	<p>Quand j'ouvre mon livre, je vois les numéros .....et .....</p>	<input type="checkbox"/>
14	<p>Complète le carré magique.</p> 	<input type="checkbox"/>
15	<p>Il y a .....rectangles dans la figure.</p>	<input type="checkbox"/>