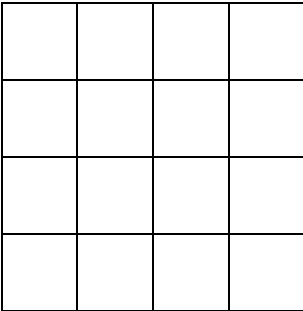




Fiche réponse – Une fiche par groupe

N°	Complétez les réponses ou exécutez la consigne	Juste
1	<p><i>Dessine les 8 jetons dans la grille ci-dessous.</i></p> 	<input type="checkbox"/>
2	<p>On peut tracerchemins différents.</p>	<input type="checkbox"/>
3	<p><i>Place les nombres de 1 à 5 de sorte que la somme des nombres de la ligne et de la colonne soit la même.</i></p> 	<input type="checkbox"/>
4	<p>Il s'agit de la cible</p>	<input type="checkbox"/>
5	<p>On utilise.....fois le chiffre 4.</p>	<input type="checkbox"/>
6	<p>Il s'agit du masque</p>	<input type="checkbox"/>
7	<p>Il fauttriangles pour boucher le trou.</p>	<input type="checkbox"/>
8	<p>Dans le soleil tu écris.....</p>	<input type="checkbox"/>
9	<p>Il fautcubes.</p>	<input type="checkbox"/>
10	<p>On doit compléter la figure Z avec la figure.....</p>	<input type="checkbox"/>

N°	Complétez les réponses ou exécutez la consigne	Juste
11	$\square =$ $\triangle =$ $\bigcirc =$ $\diamond =$	<input type="checkbox"/>
12	Cela fait..... poignées de mains.	<input type="checkbox"/>
13	<i>Dessine la sixième tablette.</i> 	<input type="checkbox"/>
14	C'est dans la figure.....qu'il y a le moins de triangles.	<input type="checkbox"/>
15	Le Petit Poucet va poser son dernier caillou sur la marche n°.....	<input type="checkbox"/>