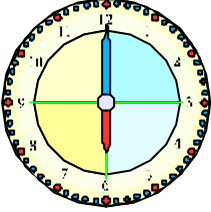
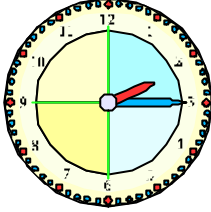
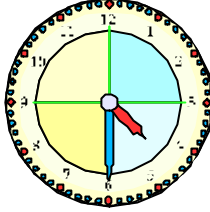
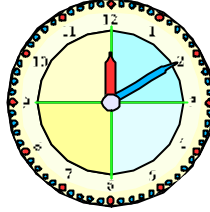


Fiche réponse – Une fiche par groupe

N°	Complétez les réponses ou exécutez la consigne.	Juste
1	Il y a ..... cubes dans cette construction.	<input type="checkbox"/>
2	<i>Barrer la réponse fausse :</i> Rémi aura-t-il assez de comprimés ? <input type="checkbox"/> OUI <input type="checkbox"/> NON	<input type="checkbox"/>
3	<i>Colorie les carrés qui sont à l'intérieur du cercle et à l'extérieur du rectangle.</i>	<input type="checkbox"/>
4	Il faudrait ..... cubes pour faire un escalier à 6 marches.	<input type="checkbox"/>
5	<i>Écris ce que chacun a fait :</i> Léo : ..... Zoé : ..... Maria : .....	<input type="checkbox"/>
6	Hervé a lu ..... pages à la fin du mois de janvier.	<input type="checkbox"/>
7	<i>Nomme les rubans :</i> <input type="checkbox"/> ruban rouge : ..... <input type="checkbox"/> ruban orange : ..... <input type="checkbox"/> ruban vert : .....	<input type="checkbox"/>
8	Les enfants ont ..... euros à eux tous.	<input type="checkbox"/>
9	Il faudra à Noémie : <input type="checkbox"/> ..... verres de farine ; <input type="checkbox"/> ..... verre de beurre fondu ; <input type="checkbox"/> ..... verre de sucre en poudre ; <input type="checkbox"/> ..... œufs.	<input type="checkbox"/>
10	La pile de Lara est la pile .....	<input type="checkbox"/>

Fin du concours CP

*CE1 seulement*

N°	Complétez les réponses ou exécutez le consigne.	Juste
11	Il y a ..... manières différentes d'habiller le clown.	<input type="checkbox"/>
12	Les 2 nombres sont : ..... et .....	<input type="checkbox"/>
13	<p><i>Relie les horloges à cadran de la 1<sup>ère</sup> ligne aux horloges à affichage digital de la 2<sup>ème</sup> ligne qui affichent la même heure.</i></p> <div style="display: flex; justify-content: space-around; align-items: center;">     </div> <div style="display: flex; justify-content: space-around; margin-top: 20px;"> <div style="border: 1px solid black; padding: 5px; text-align: center;">16 : 30</div> <div style="border: 1px solid black; padding: 5px; text-align: center;">18 : 00</div> <div style="border: 1px solid black; padding: 5px; text-align: center;">02 : 15</div> <div style="border: 1px solid black; padding: 5px; text-align: center;">04 : 30</div> </div>	<input type="checkbox"/>
14	<p><i>Écris le nom des boissons (ou la lettre) du plus <b>lourd</b> au plus <b>léger</b> :</i></p> <div style="display: flex; justify-content: space-around; margin-top: 10px;"> <div style="border: 1px solid black; padding: 5px; text-align: center;">.....</div> <div style="border: 1px solid black; padding: 5px; text-align: center;">.....</div> <div style="border: 1px solid black; padding: 5px; text-align: center;">.....</div> </div>	<input type="checkbox"/>
15	La famille Dupont peut rester au maximum..... nuits au camping.	<input type="checkbox"/>