

















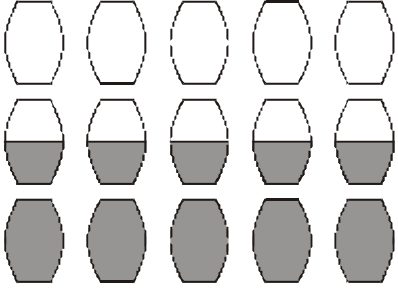


FICHE REPONSE - Remplir une fiche par classe

Ecole de : Enseignant(e) :

Entourez les 8 numéros des problèmes choisis

Cochez la case joker de votre choix

N°	Réponse	Joker	Juste	Faux																								
1	Maintenant il est.....	<input type="checkbox"/>	+ 5	- 5																								
2	Il y a filles qui ont mis le nœud sur leur oreille droite.	<input type="checkbox"/>	+ 6	- 6																								
3	Il doit remonter étages pour atteindre le 52 ^{ème} étage.	<input type="checkbox"/>	+ 7	- 7																								
4	Le cinquième dessin serait le (indiquer la lettre)	<input type="checkbox"/>	+ 8	- 8																								
5	Il y a triangles sur la table.	<input type="checkbox"/>	+ 9	- 9																								
6	Il y a personnes en tout.	<input type="checkbox"/>	+ 10	- 10																								
7	Il lui reste segments à tracer.	<input type="checkbox"/>	+ 11	- 11																								
8	Inscrire les valeurs de chaque case.	<input type="checkbox"/>	+ 12	- 12																								
<table border="1" style="width: 100%; border-collapse: collapse;"> <tr> <td style="text-align: center;"></td> <td style="text-align: center;"><input type="checkbox"/></td> <td style="text-align: center;">Un message est caché dans l'une des enveloppes</td> <td style="text-align: center;"><input type="checkbox"/></td> <td style="text-align: center;"></td> <td style="text-align: center;"><input type="checkbox"/></td> </tr> <tr> <td style="text-align: center;">Chaque enveloppe vide se trouve dans une case qui vaut 0</td> <td style="text-align: center;"><input type="checkbox"/></td> <td style="text-align: center;">Dans la colonne où se trouve le message secret, toutes les cases ont la même valeur</td> <td style="text-align: center;"><input type="checkbox"/></td> <td style="text-align: center;"></td> <td style="text-align: center;"><input type="checkbox"/></td> </tr> <tr> <td style="text-align: center;">Cette case vaut ?</td> <td style="text-align: center;"><input type="checkbox"/></td> <td style="text-align: center;">Quand deux cases enveloppes sont voisines, elles sont vides</td> <td style="text-align: center;"><input type="checkbox"/></td> <td style="text-align: center;"><input type="checkbox"/></td> <td style="text-align: center;"><input type="checkbox"/></td> </tr> <tr> <td style="text-align: center;"></td> <td style="text-align: center;"><input type="checkbox"/></td> <td style="text-align: center;"></td> <td style="text-align: center;"><input type="checkbox"/></td> <td style="text-align: center;"></td> <td style="text-align: center;"><input type="checkbox"/></td> </tr> </table>			<input type="checkbox"/>	Un message est caché dans l'une des enveloppes	<input type="checkbox"/>		<input type="checkbox"/>	Chaque enveloppe vide se trouve dans une case qui vaut 0	<input type="checkbox"/>	Dans la colonne où se trouve le message secret, toutes les cases ont la même valeur	<input type="checkbox"/>		<input type="checkbox"/>	Cette case vaut ?	<input type="checkbox"/>	Quand deux cases enveloppes sont voisines, elles sont vides	<input type="checkbox"/>	<input type="checkbox"/>	<input type="checkbox"/>		<input type="checkbox"/>		<input type="checkbox"/>		<input type="checkbox"/>			
	<input type="checkbox"/>	Un message est caché dans l'une des enveloppes	<input type="checkbox"/>		<input type="checkbox"/>																							
Chaque enveloppe vide se trouve dans une case qui vaut 0	<input type="checkbox"/>	Dans la colonne où se trouve le message secret, toutes les cases ont la même valeur	<input type="checkbox"/>		<input type="checkbox"/>																							
Cette case vaut ?	<input type="checkbox"/>	Quand deux cases enveloppes sont voisines, elles sont vides	<input type="checkbox"/>	<input type="checkbox"/>	<input type="checkbox"/>																							
	<input type="checkbox"/>		<input type="checkbox"/>		<input type="checkbox"/>																							
9	Il lui manquetimbres pour compléter la dernière pochette.	<input type="checkbox"/>	+ 13	- 13																								
10	Le poids total du cœur est..... grammes.	<input type="checkbox"/>	+ 14	- 14																								
11	Entourer la part de chacun des fils	<input type="checkbox"/>	+ 15	- 15																								
																												
12	Les deux nombres sont et	<input type="checkbox"/>	+ 16	- 16																								
13	Il y a triangles dans la figure.	<input type="checkbox"/>	+ 17	- 17																								
14	Il reste bonbons dans le panier qui en contient le plus.	<input type="checkbox"/>	+ 18	- 18																								
15	Il faut petits cubes pour construire l'objet.	<input type="checkbox"/>	+ 19	- 19																								
16	Clovis Patrick Sophie	<input type="checkbox"/>	+ 20	- 20																								
		150 pts	+	-																								

Composition de la classe : Indiquer le nombre d'élèves par niveau.

CE2

CM1

CM2

TOTAL :